

# गणित

## अध्याय-3: संख्याओं के साथ खेलना



## गुणज और गुणनखंड

### गुणज (Multiple)


3 या तीन में एक से गुणा करने पर  $3 \times 1 = 3$

$3 + 3$  या तीन में दो से गुणा करने पर  $3 \times 2 = 6$

$3 + 3 + 3$  या तीन में तीन से गुणा करने पर  $3 \times 3 = 9$

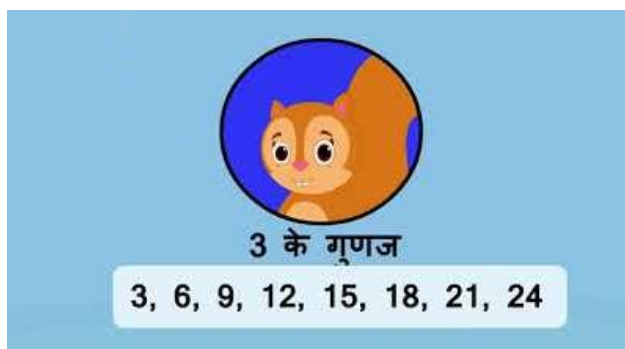
$3 + 3 + 3 + 3$  या तीन में चार से गुणा करने पर  $3 \times 4 = 12$

किसी भी संख्या के गुणज उसके गुणकों के रूप में होंगे। अर्थात् किसी भी संख्या के गुणनखंड या तो उस संख्या के बराबर होंगे या फिर उससे बड़े होंगे। जैसे:-



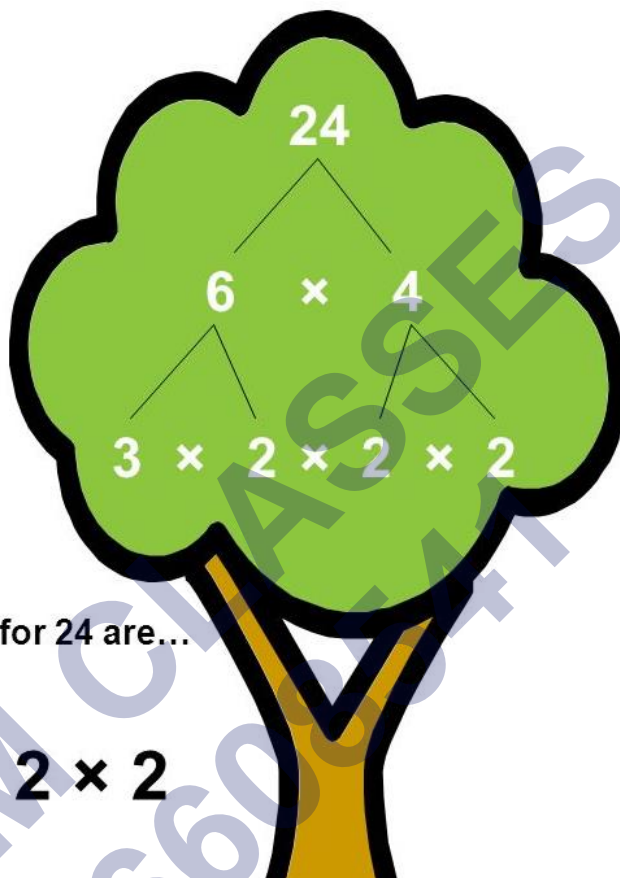
5 के गुणज = 5, 10, 15, . . . . . n

8 के गुणज = 8, 16, 32, . . . . . n

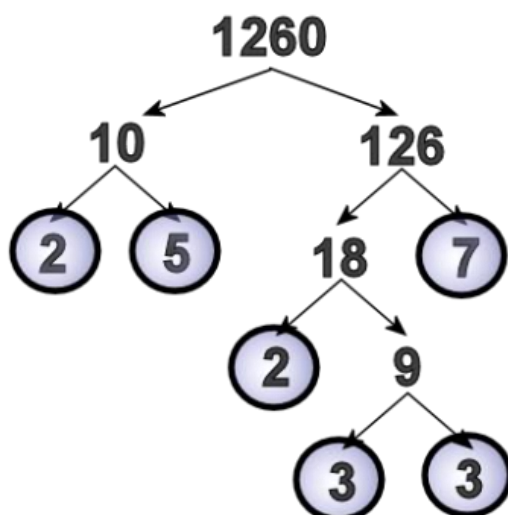


0 और 1 को छोड़कर सभी संख्याओं के गुणक अनंत होते हैं।

### गुणनखंड (Factor)



किसी संख्या को अन्य संख्याओं के गुणनफल (product) के रूप में तोड़ने की क्रिया को गणित में गुणनखण्ड (factorization) कहते हैं। किसी संख्या के गुणनखण्डों को परस्पर गुणा करने पर वह मूल संख्या पुनः प्राप्त हो जाती है। जैसे:-



3 के गुणनखंड =  $1 \times 3$

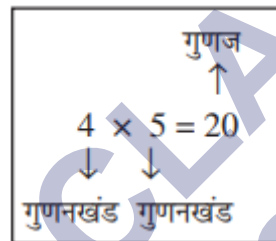
4 के गुणनखंड =  $1 \times 4$  या  $2 \times 2$  (अतः यहाँ 4 के कुल गुणनखंड 4 होंगे)

5 के गुणनखंड =  $1 \times 5$

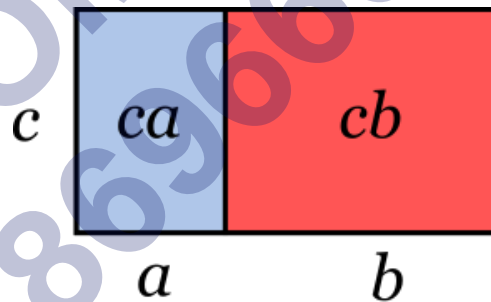
10 के गुणनखंड =  $2 \times 5$  या  $1 \times 10$

10 के कुल गुणनखंड = 1, 2, 5, 10

25 के कुल गुणनखंड = 1, 5, 25

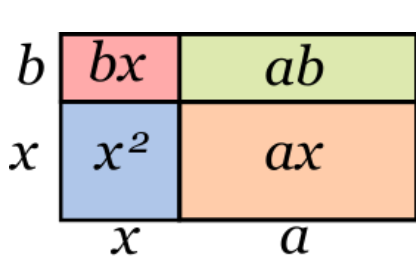


### उभयनिष्ठ (Common) गुणक की पहचान

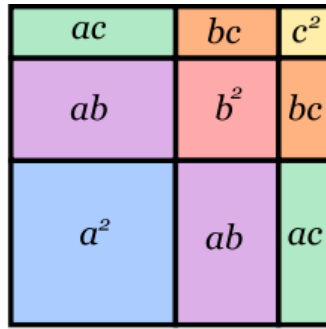


$$c(a+b) = ca + cb$$

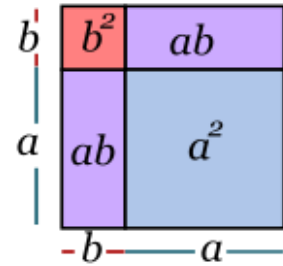
जब कोई संख्या या बीजीय वर्ण किसी योग के कम से कम दो पदों में मौजूद हो तो इन पदों को निम्नलिखित प्रकार से एक गुणनफल के रूप में व्यक्त किया जा सकता है जो गुणन की योग के उपर वितरण (distributivity of multiplication over the addition) पर निर्भर करती है-  
 $ab + ac = a(b+c)$ .



$$(x+a)(x+b) = x^2 + (a+b)x + ab$$



$$(a+b+c)^2 = a^2 + b^2 + c^2 + 2(ab+bc+ca)$$



$$(a+b)^2 = a^2 + b^2 + ab + ab = a^2 + 2ab + b^2$$

कुछ उदाहरण-

$$4 \times 7 + 4 \times 12 = 4(7+12)$$

$$5 \times 11 + 3 \times 11 = (5+3) 11$$

$$3a + 21 = 3(a+7)$$

### भाजक (Divisor)

जब हम किसी संख्या को दूसरी संख्या से भाग देते हैं, तो जिस संख्या से भाग दिया जाता है उसे भाजक (Divisor) कहते हैं। जैसे:-

भाज्य (Dividend)  
भाजक (Divisor)

$$\begin{array}{r}
 5 \overline{) 1588317} \\
 \underline{15} \phantom{000} \\
 8 \phantom{000} \\
 \underline{-5} \phantom{00} \\
 38 \phantom{0} \\
 \underline{-35} \\
 3 \leftarrow \text{शेषफल (Reminder)}
 \end{array}$$

भागफल (Quotient)

$$\text{भाज्य} = (\text{भाजक} \times \text{भागफल}) + \text{शेषफल}$$

गुणनखंड और भाजक से सम्बंधित महत्वपूर्ण बिंदु:-


- किसी दी हुई संख्या का प्रत्येक गुणनखंड उस संख्या का भाजक अवश्य होगा।
- परन्तु प्रत्येक भाजक उस संख्या का गुणनखंड नहीं हो सकता है।

क्युकी किसी संख्या में हम कई संख्याओं से भाग दे सकते हैं। जैसे:- 1588 में 1, 2, 3, . . . . .  
 . . n तक किसी भी संख्या में भाग दे सकते हैं, परन्तु 3, 1588 का गुणनखंड नहीं है।

### कैसे किसी संख्या का गुणनखंड ज्ञात करें

किसी संख्या का “गुणनखंड” वह संख्याएँ होती हैं जिन्हें आपस में गुणा करने पर पुनः वही संख्या प्राप्त होती है। इसे समझने का दूसरा तरीका यह है कि हर संख्या उसके गुणनखंडों का गुणनफल होती है। कैसे गुणनखंड प्राप्त करें – जो कि किसी संख्या को उसके गुणनखंडों में विच्छेद करने की प्रक्रिया है – एक महत्त्वपूर्ण गणितीय कौशल है जिसका उपयोग मूलभूत अंकगणित में ही नहीं बल्कि बीजगणित में भी किया जाता है।


### पूर्ण संख्या का गुणनखंड प्राप्त करें



#### दी गयी संख्या लिखें:

गुणनखंड प्राप्त करने की शुरुआत करते हुए आपको सिर्फ दी गयी संख्या की आवश्यकता है – इसके लिए कोई भी संख्या चलेगी, परन्तु, आसानी के लिए हम सामान्य पूर्णांक संख्या लेंगे। पूर्णांक संख्या भिन्नात्मक या दशमलव घटक के अतिरिक्त संख्या होती है (सभी धनात्मक तथा ऋणात्मक संख्या पूर्ण संख्या होती हैं) ।

मानिये हम संख्या 12 चुनते हैं। इस संख्या को पेपर पर लिखिए।



$$12 = 12 \times 1$$

$$12 = 6 \times 2$$

$$12 = 3 \times 4$$

$$1, 2, 3, 4, 6, 12$$

ऐसी दो संख्याएँ प्राप्त कीजिये जिनका गुणनफल पहली संख्या हो:

किसी भी पूर्ण संख्या को दो अन्य पूर्ण संख्या के गुणनफल के रूप में लिखा जा सकता है। प्रमेय संख्या को भी उस संख्या तथा 1 के गुणनफल के रूप में लिखा जा सकता है। किसी संख्या को उसके दो गुणनखंड के रूप में लिखने के लिए “मानसिक चिंतन” की आवश्यकता होती है – आपको स्वयं को यह पूछने की आवश्यकता है, “किन संख्याओं के गुणनफल से दी हुई संख्या प्राप्त होगी?”

हमारे उदाहरण में, 12 के कई गुणनखंड हैं -  $12 \times 1$ ,  $6 \times 2$ , and  $3 \times 4$  सभी का गुणनफल 12 है। इसलिए हम यह कह सकते हैं 12 के गुणनखंड हैं 1, 2, 3, 4, 6, तथा 12। हमारे उद्देश्य के लिए, हम गुणनखंड 6 तथा 2 को चुनते हैं।

सम संख्या का गुणनखंड प्राप्त करना आसान होता है क्योंकि संख्या 2 हर सम संख्या का एक गुणनखंड होता है।  $4 = 2 \times 2$ ,  $26 = 13 \times 2$ , इत्यादि।

$$12 = 6 \times 2$$

$$\downarrow$$

$$6 = 3 \times 2$$

$$12 = 2 \times 3 \times 2$$

यह सुनिश्चित करें कि कहीं प्राप्त हुए गुणनखंड को और भी खंडित किया जा सकता है या नहीं:

कई संख्याएँ, खासतौर पर बड़ी संख्या को कई बार खंडित किया जा सकता है। यदि आपने गुणनखंड के रूप में दो संख्याएँ प्राप्त कर ली हैं, तथा इनमें से किसी एक संख्या के और गुणनखंड प्राप्त किये जा सकते हैं, तो इस संख्या को भी उसके गुणनखंड के रूप में लिखें।

हमारे उदाहरण में, हमने 12 को  $2 \times 6$  में खंडित किया है। गौर कीजिये कि 6 के अपने गुणनखंड  $3 \times 2 = 6$  हैं। इसलिए, हम कह सकते हैं कि  $12 = 2 \times (3 \times 2)$ ।

$$1, 2, 3, 5, 7, 11, 13, 17, \dots$$

$1 = 1 \times 1$	$7 = 7 \times 1$
$2 = 2 \times 1$	$11 = 11 \times 1$
$3 = 3 \times 1$	$13 = 13 \times 1$
$5 = 5 \times 1$	$17 = 17 \times 1$



जब आपको अभाज्य संख्या मिल जाये तो गुणनखंड प्राप्त करना रोक दें:

अभाज्य संख्या वे संख्याएँ होती हैं जिन्हें सिर्फ उसी संख्या या 1 से विभाजित किया जा सकता है। उदाहरण के लिए 1, 2, 3, 5, 7, 11, 13, तथा 17 अभाज्य संख्याएँ हैं। जब आपने किसी संख्या के ऐसे गुणनखंड प्राप्त कर लिए हैं जिनमें सभी संख्याएँ अभाज्य हैं, तो इसके उपरांत गुणनखंड प्राप्त करना निरर्थक होगा। इसलिए रुक जाएं।

हमारे उदाहरण में, हमने 12 को  $2 \times (2 \times 3)$  में खंडित किया है। 2, 2, तथा 3 अभाज्य संख्याएँ हैं। यदि हम फिर से इनका गुणनखंड प्राप्त करें, तो हमें  $(2 \times 1) \times ((2 \times 1)(3 \times 1))$  मिलेगा, जिसकी कुछ उपयोगिता नहीं है, इसलिए इसकी जरूरत नहीं।

$$\begin{aligned}
 -60 &= -10 \times 6 \\
 &= (-5 \times 2) \times 6 \\
 &= (-5 \times 2) \times (3 \times 2) \\
 -60 &= -5 \times 2 \times 3 \times 2
 \end{aligned}$$

ऋणात्मक संख्या का गुणनखंड भी इसी प्रकार प्राप्त करें:

ऋणात्मक संख्या का भी करीब-करीब धनात्मक संख्या की तरह ही गुणनखंड प्राप्त किया जाता है। इसमें एकमात्र अंतर है कि गुणनखंडों के गुणनफल के रूप में वही ऋणात्मक संख्या प्राप्त होनी चाहिए, इसलिए ऋणात्मक गुणनखंडों की विषम संख्या होनी चाहिए।

उदाहरण के लिए, -60 का गुणनखंड प्राप्त करने के लिए, नीचे देखिये:

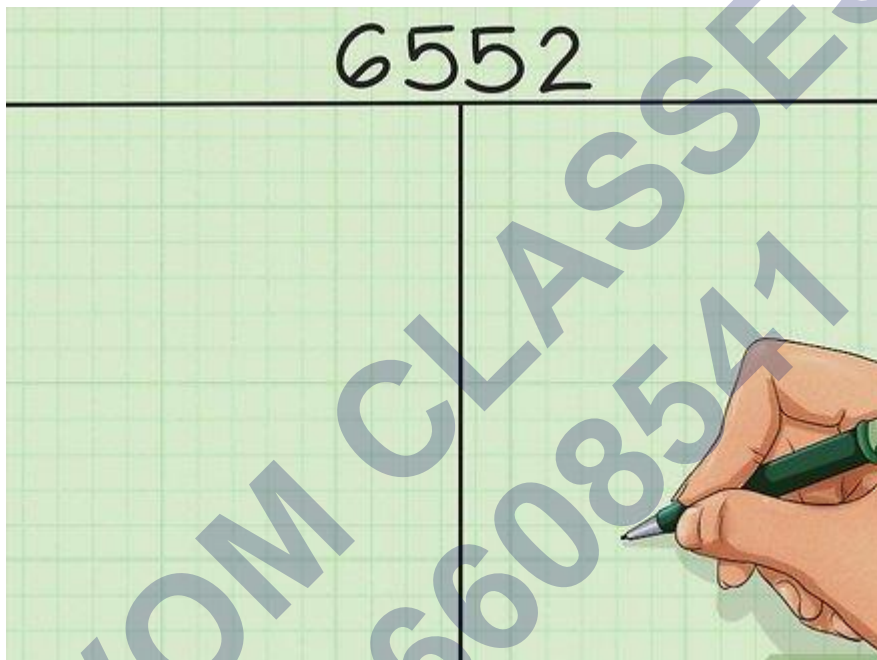
$$-60 = -10 \times 6$$

$$-60 = (-5 \times 2) \times 6$$

$$-60 = (-5 \times 2) \times (3 \times 2)$$

$-60 = -5 \times 2 \times 3 \times 2$ . ध्यान रखिये कि ऋणात्मक अंकों की सम संख्या वही अंक गुणनफल के रूप में देती है। उदाहरण के लिए,  $-5 \times 2 \times -3 \times -2$  भी 60 के बराबर होता है।

### बड़ी संख्याओं के गुणनखंड प्राप्त करने की कार्यनीति




दी गयी संख्या को दो पंक्तियों वाली तालिका में लिखें:

जबकि छोटे अंकों का गुणनखंड ज्ञात करना आसान है, बड़े अंको के गुणनखंड ज्ञात करना चुनौतीपूर्ण हो सकता है। हममें से कई लोगों को 4 से 5 अंकों वाली संख्या को सिर्फ मुजबानी रूप से इसके अभाज्य गुणनखण्डों में विभाजित करने में काफी मुश्किल हो सकती है। सौभाग्यवश, तालिका की मदद से आप इस प्रक्रिया को आसानी से कर सकते हैं। दी गयी संख्या को T-आकार की दो पंक्तियों वाली तालिका में लिखें – आप इस तालिका का उपयोग गुणनखंड की बढ़ती सूची के लिए करेंगे।

हमारे उद्देश्य के लिए, हम 4 अंकों वाली संख्या 6,552 का गुणनखंड ज्ञात करेंगे।

6552	
2	3276




इस संख्या को इसके निम्नतम अभाज्य गुणनखंड से विभाजित करें:

अपनी संख्या को निम्नतम अभाज्य गुणनखंड (1 के अलावा) से विभाजित कीजिये जिससे कोई शेषफल न बचें। अभाज्य गुणनखंड को बायीं ओर लिखें तथा प्राप्त उत्तर को इसकी बगल में दायीं ओर लिखें। जैसा ऊपर बताया गया है, सम संख्या का गुणनखंड प्राप्त करना आसान होता है क्योंकि इनका निम्नतम अभाज्य गुणनखंड हमेशा 2 होता है। दूसरी तरफ, विषम संख्या के मामले में यह निम्नतम अभाज्य गुणनखंड अलग होता है।

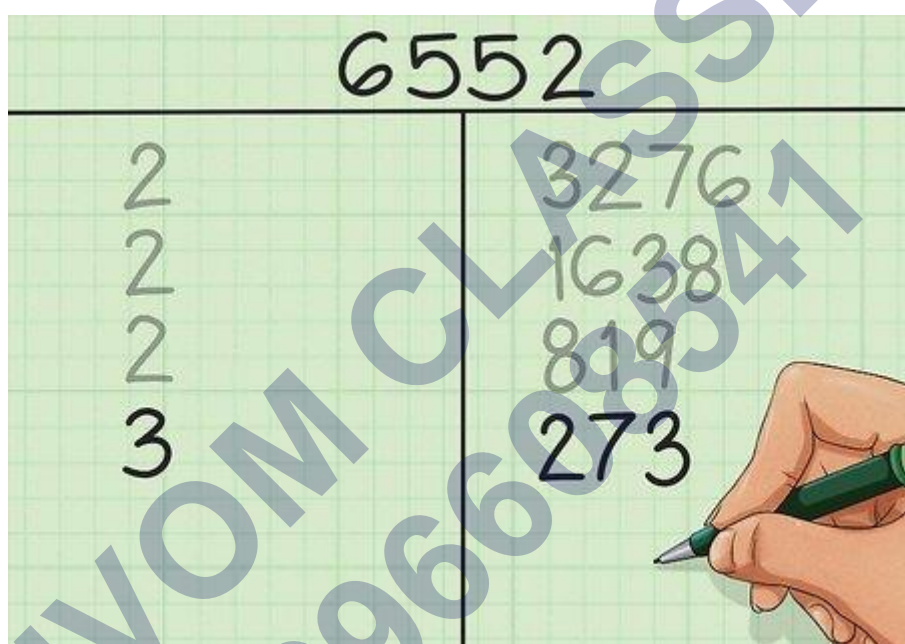
हमारे उदाहरण में, चूँकि 6,552 सम संख्या है, हम जानते हैं कि इसका निम्नतम अभाज्य गुणनखंड 2 होगा।  $6,552 \div 2 = 3,276$ , तालिका के बायीं ओर हम 2 लिखेंगे, तथा दायीं ओर 3,276 लिखेंगे।

6552	
2	3276
2	1638
2	819



इसी प्रकार गुणनखंड प्राप्त करते जाइये: इसके बाद, दायीं ओर स्थित संख्या को इसके निम्नतम अभाज्य गुणनखंड से विभाजित कीजिये। अभाज्य गुणनखंड को बायीं ओर लिखें, तथा प्राप्त हुई संख्या को दायीं ओर इसके बाजु में लिखें। इस प्रक्रिया को करते जाइए – हर पुनरावृत्ति के पश्चात् दायीं ओर स्थित संख्या घटती जायेगी।

इस प्रक्रिया को आगे बढ़ाते हैं।  $3,276 \div 2 = 1,638$ , इसलिए बायीं तरफ हम फिर से 2 लिखेंगे, तथा दायीं ओर हम 1,638 लिखेंगे।  $1,638 \div 2 = 819$ , इसलिए हम 2 को बायीं ओर लिखेंगे तथा 819 इसके नीचे दायीं ओर लिखेंगे।

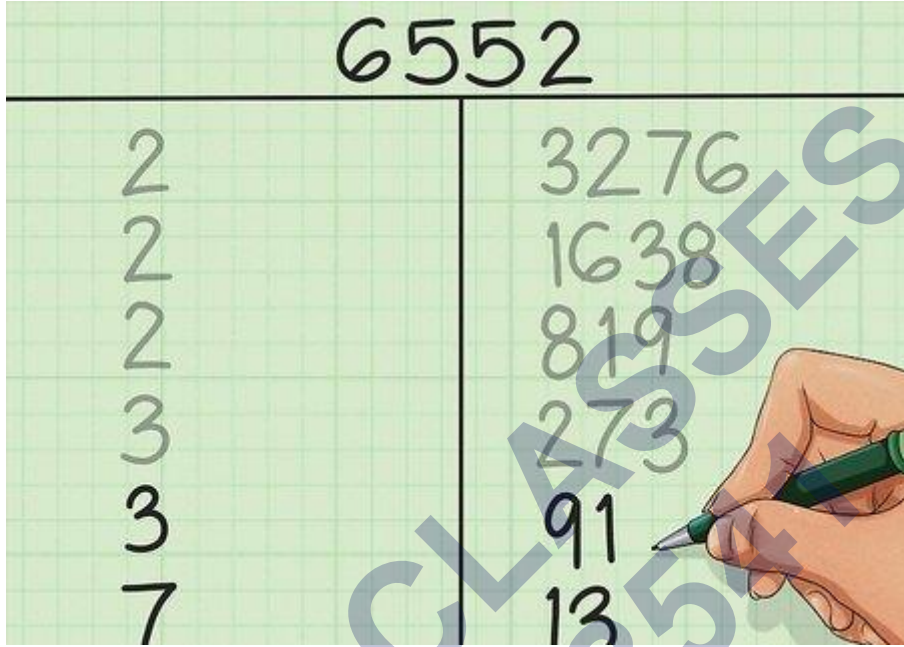


**विषम संख्या के लिए इसके लघु अभाज्य गुणनखंड से शुरुआत करें:**

सम संख्या की अपेक्षा विषम संख्या का निम्नतम अभाज्य गुणनखंड प्राप्त करना ज्यादा चुनौतीपूर्ण होता है, क्योंकि सम संख्या की तरह इनका निम्न अभाज्य गुणनखंड 2 नहीं होता। जब आपको विषम संख्या दी गयी हो, तो 2 के अलावा छोटी अभाज्य संख्या - 3, 5, 7, 11, ....से विभाजित कीजिये – जब तक आपको ऐसी निम्नतम संख्या न मिले जो बिना शेषफल के विभाजित करे। यह संख्या निम्नतम अभाज्य गुणनखंड होगी।

हमारे उदाहरण में, हम 819 पर पहुंचे हैं। 819 विषम संख्या है इसलिए इसका निम्नतम अभाज्य गुणनखंड 2 नहीं होगा। फिर से 2 लिखने के बजाय आप अगली अभाज्य संख्या 3 को लीजिये।  $819 \div 3 = 273$ , जिसमें कोई शेषफल नहीं बचता, इसलिए हम 3 तथा 273 लिखेंगे।

गुणनखण्डों का पता लगते समय, आपको सभी अभाज्य संख्याओं से कोशिश करनी चाहिए। यदि इस कोशिश में आप एक भी संख्या द्वारा पूर्ण विभाजन करने में असमर्थ रहें तो हो सकता है कि वह संख्या अभाज्य संख्या है, अतः गुणनखंड प्राप्त करने की प्रक्रिया समाप्त हो जाएगी।



**जब तक आप 1 पर न पहुँच जाएं, इसे जारी रखें:**

दायीं ओर संख्या को अभाज्य गुणनखंड द्वारा विभाजित करना जारी रखें, जब तक आपको अभाज्य संख्या प्राप्त न हो जाये। इस संख्या को इसी से विभाजित करें – इससे बायीं ओर वही संख्या आ जाएगी, तथा दायीं ओर संख्या 1 होगी।

- इस गुणनखंड की प्रक्रिया को समाप्त कीजिये। विस्तृत गुणनखंड प्रक्रिया के लिए नीचे देखें:
- फिर से 3 से विभाजित करें:  $273 \div 3 = 91$ , कोई शेषफल नहीं, इसलिए हम 3 तथा 91 लिखेंगे।
- चलिए फिर से 3 से कोशिश करते हैं: संख्या 91 का 3 गुणनखंड नहीं है, न ही अगला अभाज्य अंक 5 इसका गुणनखंड है,  $91 \div 7 = 13$ , कोई शेषफल नहीं बचता, अतः हम 7 तथा 13 लिखेंगे।
- फिर से 7 से कोशिश करेंगे: 13 का 7 गुणनखंड नहीं है, न ही 11 है, लेकिन इसका गुणनखंड वही संख्या है:  $13 \div 13 = 1$ , इसलिए तालिका समाप्त करते हुए, हम 13 तथा 1 लिखेंगे। हम अब गुणनखंड प्रक्रिया को समाप्त कर सकते हैं।

6552	
2	3276
2	1638
2	819
3	273
3	91
7	13

तालिका के बायीं ओर दी गयी संख्याओं का प्राप्त गुणनखंड के रूप में उपयोग कीजिये:

जब एक बार दायीं ओर 1 मिल जाये, आपका कार्य समाप्त हुआ। तालिका की बायीं ओर प्राप्त हुई संख्या आपके गुणनखंड हैं। दूसरे शब्दों में, इन सभी गुणनखंडों का गुणनफल सबसे ऊपर लिखी हुई संख्या होगी। यदि समान गुणनखंड की पुनरावृत्ति हो, तो आप घातांक द्वारा इसे दर्शा सकते हैं। उदाहरण के लिए, यदि प्राप्त हुए गुणनखंड में, चार बार संख्या 2 प्राप्त हुई है तो आप इसे  $2 \times 2 \times 2 \times 2$  लिखने के बजाय 24 के रूप में लिख सकते हैं।

- हमारे उदाहरण में,  $6,552 = 23 \times 32 \times 7 \times 13$ , यह संख्या 6,552 के प्राप्त सम्पूर्ण अभाज्य गुणनखंड हैं। इन संख्याओं का किसी भी अनुक्रम में प्राप्त गुणनफल 6,552 ही होगा।

### अभाज्य संख्या

ऐसी संख्याएँ जो 1 और स्वयं के अलावा अन्य किसी संख्या से भाग नहीं होती है, उन संख्याओं को अभाज्य संख्या (Prime Number) कहते हैं। जैसे 5 एक संख्या है जो सिर्फ 1 और 5 से ही पूरी तरह से विभाजित है अर्थात् 5 के सिर्फ 2 ही गुणनखंड है अतः 5 एक अभाज्य संख्या है।

### अभाज्य संख्या का उदाहरण

2, 5, 7, 11, 13, 17, 23, 29, 31, 37 आदि सभी संख्याएँ अभाज्य संख्याएँ हैं।

## अभाज्य संख्या निकालने का फार्मूला

वैसे तो Abhaja sankhya ज्ञात करने के लिए काफी नियम हैं लेकिन आज हम अभाज्य संख्या को ज्ञात करने के दो महत्त्वपूर्ण नियमों के बारे में जानेंगे जो इस प्रकार हैं

### अभाज्य संख्या निकालने का पहला तरीका

अभाज्य संख्या ज्ञात करने की ये विधि सबसे अच्छी विधि है क्योंकि इस विधि से बहुत ही अच्छे तरीके से और आसानी ज्ञात कर सकते हैं कि कोई संख्या अभाज्य है या भाज्य संख्या। आइये इसको एक उदाहरण से जानते हैं

मान लीजिए 37 एक संख्या है। हमें ये जानना है कि 37 एक Abhaja sankhya है या नहीं। इसके लिए सबसे पहले तो हमें ये जानना होगा कि 37 का वर्गमूल किन दो धनात्मक संख्या के बीच में होगा।

जैसे 37 का वर्गमूल 36 और 49 के वर्गमूल के बीच होगा। यानी 6 का वर्ग 36 और 7 का वर्ग 49। यानी 37 का वर्गमूल 6 और 7 के बीच में कहीं होगा।

अब हमें ज्ञात हो गया कि 37 का वर्गमूल 6 और 7 के बीच में कहीं होगा। अब हमें 6 और 7 से पहले की सभी अभाज्य संख्याओं को लिख लेना है। जैसे 6 और 7 से पहले की अभाज्य संख्याएं 5, 3, 2 होगी।

अब हमें 37 को 5, 3 और 2 से भाग करके देखना है। अगर 37 इन तीनों संख्याओं से भाग नहीं होती तो इसका अर्थ है कि 37 एक अभाज्य संख्या है।

### अभाज्य संख्याएं निकालने का दूसरा तरीका

प्रथम 40 से बड़ी अभाज्य संख्या प्राप्त करने के लिए  $n^2 + n + 41$  का प्रयोग किया जा सकता है। जहाँ  $n = 0, 1, 2, \dots, 39$  होगा। ध्यान रहे, अंतिम संख्या केवल 39 तक ही सीमित है। इस फॉर्मूले के तहत  $n$  का मान 39 से अधिक नहीं होना चाहिए।

- अगर  $n=0$  हो तब  $2 \times 0 + 0 + 41 = 41$
- अगर  $n=1$  हो तब  $1 \times 1 + 1 + 41 = 43$

- अगर  $n=2$  हो तब  $2 \times 2 + 2 + 41 = 47$
- अगर  $n=3$  हो तब  $3 \times 3 + 3 + 41 = 53$
- अगर  $n=4$  हो तब  $4 \times 4 + 4 + 41 = 61$  आदि।

### अभाज्य संख्या के गुण

- 0 और 1 अभाज्य संख्या नहीं है।
- 2 को छोड़कर सभी अभाज्य संख्याएँ विषम होती हैं। 2 ही एक ऐसी संख्या है जो अभाज्य भी है और सम भी।
- अभाज्य संख्याएँ के केवल दो गुणनखंड होते हैं।
- अभाज्य संख्याएँ हमेशा 0 और 1 से बड़ी होती है।
- अभाज्य संख्या 1 और स्वयं के अतिरिक्त किसी अन्य संख्या से विभाजित नहीं हो सकती है।
- सभी भाज्य और अभाज्य संख्याएँ प्राकृत संख्याएँ होती हैं। और प्राकृत संख्या कभी ऋणात्मक नहीं होती है।

### सबसे छोटी अभाज्य संख्या

मैंने अक्सर कई विद्यार्थियों को यह गलती करते देखा है की वो 1 को ही सबसे छोटी Abhajya sankhya मान बैठते हैं। लेकिन वास्तव में यह गलत है। आपको याद रखना है कि एक न तो भाज्य है और न ही अभाज्य। सबसे छोटी अभाज्य संख्या 2 है।

### प्रथम पाँच अभाज्य संख्या

भाज्य संख्याओं के मुकाबले अभाज्य संख्याएं काफी कम है। प्रथम 5 अभाज्य संख्या 2, 3, 5, 7, 11 है।

### अभाज्य संख्या 1 to 100 – Abhajya Sankhya 1 To 100

जैसा की मैंने शुरू में ही कहा था की भाज्य संख्याओं के मुकाबले अभाज्य संख्याएं काफी कम है। भाज्य संख्या 1 से 100 के बीच 74 संख्याएँ है जबकि abhajya sankhya 1 Se 100 Tak केवल 25 ही है। भाज्य संख्या 1 से 100 तक की लिस्ट नीचे दी गई है-



2	3	5	7	11
13	17	19	23	29
31	37	41	43	47
53	59	61	67	71
73	79	83	89	97

### अभाज्य संख्याओं का औसत कैसे निकालें

अभाज्य संख्याओं का औसत निकालने के लिए हमें औसत का फॉर्मूला याद होना चाहिए। औसत निकालने के लिए हम गयी संख्या के जोड़ को, संख्याओं की संख्या से भाग करते हैं।

**औसत = सभी पदों का योग / पदों की कुल संख्या**

उदाहरण के लिए अगर हमें प्रथम 5 अभाज्य संख्याओं 2, 3, 5, 7, 11 का औसत ज्ञात करना हो तो हम इन संख्याओं का जोड़ करेंगे।

$$2 + 3 + 5 + 7 + 11 = 28$$

$$\text{प्रथम 5 अभाज्य संख्याओं का औसत} = 28/5 = 5.6$$

### भाज्य संख्या

धनात्मक पूर्णांक संख्याएँ जो 1 और स्वयं के आलावा किसी अन्य संख्या से भी विभाजित होती हैं उसे भाज्य संख्या कहते हैं।

आप भाज्य संख्या को इस प्रकार से समझ सकते हैं की वो सभी प्राकृत संख्याएँ जो खुद और एक के सिवाय अन्य किसी संख्या से भी पूरा-पूरा कट (cancel) जाती हैं उसे हम भाज्य संख्या (composite number) कहते हैं।

### उदाहरण

भाज्य संख्या का उदाहरण:- 4, 6, 8, 9, 10, 12, 14, 15, 16, आदि भाज्य संख्या के कुछ उदाहरण हैं।

आप इस बात को हमेशा ध्यान रखें कि भाज्य संख्या कभी भी ऋणात्मक (negative) नहीं हो सकती है। तथा सबसे छोटी भाज्य संख्या 4 है।

### भाज्य संख्या के प्रकार

भाज्य संख्याओं को भी दो भागों में बांटा गया है। और भाज्य संख्या के बंटवारे के लिए सम और विषम संख्याओं का आधार लिया गया है। तो चलिए भाज्य संख्या के प्रकार को जानते हैं -

1. सम भाज्य संख्या (Even composite number)
2. विषम भाज्य संख्या (Odd composite number)

**अब चलिए एक-एक कर भाज्य संख्या के इन प्रकारों को जानते हैं।**

सम भाज्य संख्या (Even composite number):-

वैसी संख्याएँ जो सम (2 से पूरी-पूरी विभाजित होने वाली संख्या) और एक भाज्य संख्या भी है उसे सम भाज्य संख्या कहा जाता है।

जैसे- 4, 8, 12, 14, 16 आदि संख्याएँ सम भाज्य संख्या के उदाहरण हैं।

विशेष:- सबसे छोटी सम भाज्य संख्या 4 है।

विषम भाज्य संख्या (Odd composite number):-

वैसी संख्याएँ जो विषम तो हैं ही और वो दो से अधिक संख्या से विभाजित होती हैं उसे विषम भाज्य संख्या कहा जाता है।

जैसे- 9, 15, 21, 25, 27 आदि संख्याएँ विषम भाज्य संख्या के उदाहरण हैं।

विशेष:- सबसे छोटी विषम भाज्य संख्या 9 है।

### भाज्य संख्या 1 से 100 तक

4	6	8
9	10	12
14	15	16

18	20	21
22	24	25
26	27	28
30	32	33
34	35	36
38	39	40
42	44	45
46	48	49
50	51	52
54	55	56
57	58	60
62	63	64
65	66	68
69	70	72
74	75	76
77	78	80
81	82	84
85	86	87
88	90	91
92	93	94
95	96	98
99	100	

### Examples;

- किसी स्कूल में चार दिन के लिए एक पुस्तक प्रदर्शनी आयोजित की गई। पहले, दुसरे, तीसरे और अंतिम दिन खिड़की पर क्रमशः 1094, 1812, 2050 और 2751 टिकट बेचे गए। इन चार दिनों में बेचे गए टिकटों की कुल संख्या ज्ञात कीजिए।

$$\begin{aligned} \text{टिकटों की कुल संख्या} &= 1094 + 1812 + 2050 + 2751 \\ &= 7,707 \text{ टिकट।} \end{aligned}$$

- शेखर एक प्रसिद्ध क्रिकेट खिलाड़ी है। वह टैस्ट मैचों में अब तक 6980 रन बना चुका है। वह 10,000 रन पुरे करना चाहता है। उसे कितने और रनों की आवश्यकता है ?

$$\text{शेखर द्वारा बनाया गया कुल रन} = 6980$$

$$\text{रन बनाने हैं} = 10,000$$

$$10,000 - 6980 = 3,020 \text{ रन।}$$

- एक चुनाव में, सफल प्रत्याशी ने, 5,77,500 मत प्राप्त किए, जबकि उसके निकटतम प्रतिद्वन्द्वी ने 3,48,700 मत प्राप्त किए। सफल प्रत्याशी ने चुनाव कितने मतों से जीता ?

$$\text{सफल प्रत्याशी ने प्राप्त किए} = 5,77,500 \text{ मत}$$

$$\text{प्रतिद्वन्द्वी ने मत प्राप्त किए} = 3,48,700$$

$$\text{सफल प्रत्याशी ने चुनाव जीता} = 5,77,500 - 3,48,700 = 2,28,800$$

- कीर्ति बुक - स्टोर ने जून के प्रथम सप्ताह में 2,85,891 रु. मूल्य की पुस्तकें बेचीं। इसी माह के दूसरे सप्ताह में 4,00,768 रु. मूल्य की पुस्तकें बेचीं गईं। दोनों सप्ताहों में कुल मिलाकर कितनी बिक्री हुई ? किस सप्ताह में बिक्री अधिक हुई और कितनी अधिक ?

$$\text{प्रथम सप्ताह में बिकी पुस्तकों का मूल्य} = 2,85,891 \text{ रु.}$$

$$\text{दूसरे सप्ताह में बिकी पुस्तकों का मूल्य} = 4,00,768 \text{ रु.}$$

$$\text{दोनों सप्ताह में कुल मिलाकर बिकी पुस्तकों का मूल्य}$$

$$= 2,85,891 \text{ रु.} + 4,00,768 \text{ रु.} = 6,86,659$$

$$\text{दूसरे सप्ताह में बिक्री अधिक हुई}$$

$$\text{दूसरे सप्ताह में बिकी पुस्तकों का मूल्य} = 4,00,768 \text{ रु.}$$

प्रथम सप्ताह में बिकी पुस्तकों का मूल्य = 2,85,891 रु

$$4,00,768 \text{ रु.} - 2,85,891 \text{ रु.} = 1,14,877 \text{ रु.}$$

- दवाइयों को बक्सों में भरा गया है और ऐसे प्रत्येक बक्स का भार 4 किग्रा 500 ग्रा है। एक वैन (Van) में जो 800 किग्रा से अधिक का भार नहीं ले जा सकती, ऐसे कितने बक्से लादे जा सकते हैं?

प्रत्येक बक्स का भार = 4 किग्रा 500 ग्रा

$$= 4000 \text{ g} + 500 \text{ g}$$

$$= 4500 \text{ g}$$

वैन द्वारा अधिकतम ढोए जा सकने वाला भार = 800 किग्रा

$$= 800000$$

बॉक्स की संख्या =  $800000 \div 4500$

$$\begin{array}{r} 177 \\ 4500 \overline{) 800000} \\ \underline{-4500} \\ 35000 \\ \underline{-31500} \\ 35000 \\ \underline{-31500} \\ 3500 \end{array}$$

एक बर्तन में 4 ली 500 मिली दही है। 25 मिली धरिता वाले कितने गिलासों में इसे भरा जा सकता है?

बर्तन में दही की मात्रा = 4 ली 500 मिली

$$= 4000 + 500$$

$$= 4500 \text{ मिली}$$

भरने वाले गिलास की धारिता = 25 मिली

$$\text{भरे जा सकने वाले गिलासों की संख्या} = 4500 \div 25$$

$$= 180$$

अतः 180 गिलासों भरी जा सकती हैं।

**व्यापक नियम का प्रयोग करते हुए, निम्नलिखित में से प्रत्येक का आकलन**

**(a)  $730 + 998$**

हल : 730 का सन्निकट मान = 700

998 का सन्निकट मान = 1000

आकलन : =  $700 + 1000 = 1700$

**(b)  $796 - 314$**

हल : 796 का सन्निकट मान = 800

314 का सन्निकट मान = 300

आकलन : =  $800 - 300 = 500$

**(c)  $12,904 + 2,888$**

हल :

12904 का सन्निकट मान = 13000

2888 का सन्निकट मान = 3000

आकलन : =  $13000 + 3000 = 16000$

(d) 28,292 - 21,496

हल :

28,292 का सन्निकट मान = 28000

21496 का सन्निकट मान = 21000

आकलन : 28000 - 21000 = 7000

SHIVOM CLASSES  
8696608541

## NCERT SOLUTIONS

## प्रश्नावली 3.1 (पृष्ठ संख्या 53-54)

प्रश्न 1. निम्नलिखित संख्याओं के सभी गुणनखण्ड लिखिए :

a. 24

b. 15

c. 21

d. 27

e. 12

f. 20

g. 18

h. 23

i. 36

उत्तर-

a.  $\because 24 = 1 \times 24$

$$24 = 2 \times 12$$

$$24 = 3 \times 8$$

$$24 = 4 \times 6$$

$\therefore 24$  के सभी गुणनखण्ड = 1, 2, 3, 4, 6, 8, 12 और 24

b.  $\because 15 = 1 \times 15$

$$15 = 3 \times 5$$

$\therefore 15$  के सभी गुणनखण्ड = 1, 3, 5 और 15

c.  $\because 21 = 1 \times 21$



$$21 = 3 \times 7$$

∴ 21 के सभी गुणनखण्ड = 1, 3, 7 और 21

d. ∴  $27 = 1 \times 27$

$$27 = 3 \times 9$$

∴ 27 के सभी गुणनखण्ड = 1, 3, 9 और 27

e. ∴  $12 = 1 \times 12$

$$12 = 2 \times 6$$

$$12 = 3 \times 4$$

∴ 12 के सभी गुणनखण्ड = 1, 2, 3, 4, 6 और 12

f. ∴  $20 = 1 \times 20$

$$20 = 2 \times 10$$

$$20 = 4 \times 5$$

∴ 20 के सभी गुणनखण्ड = 1, 2, 4, 5, 10 और 20

g. ∴  $18 = 1 \times 18$

$$18 = 2 \times 9$$

$$18 = 3 \times 6$$

∴ 18 के सभी गुणनखण्ड = 1, 2, 3, 6, 9, और 18.

h. ∴  $23 = 1 \times 23$

∴ 23 के सभी गुणनखण्ड = 1 और 23

i. ∴  $36 = 1 \times 36$

$$36 = 2 \times 18$$

$$36 = 3 \times 12$$

$$36 = 4 \times 9$$

$$36 = 6 \times 6$$

∴ 36 के सभी गुणखण्ड = 1, 2, 3, 4, 6, 9, 12, 18 और 36

प्रश्न 2. निम्न संख्याओं के प्रथम पाँच गुणज लिखिए:

a. 5

b. 8

c. 9

उत्तर-

a.  $5 \times 1 = 5,$

$$5 \times 2 = 10,$$

$$5 \times 3 = 15,$$

$$5 \times 4 = 20,$$

$$5 \times 5 = 25$$

अतः 5 के गुणज = 5, 10, 15, 20 और 25

b.  $8 \times 1 = 8,$

$$8 \times 2 = 16,$$

$$8 \times 3 = 24,$$

$$8 \times 4 = 32,$$

$$8 \times 5 = 40$$

अतः 8 के गुणज = 8, 16, 24, 32 और 40

c.  $9 \times 1 = 9,$

$9 \times 2 = 18,$

$9 \times 3 = 27$

$9 \times 4 = 36,$

$9 \times 5 = 45$

अतः 9 के गुणन = 9, 18, 27, 36 और 45

प्रश्न 3. स्तम्भ 1 की संख्याओं का स्तम्भ 2 के साथ मिलान कीजिए:

स्तम्भ 1	स्तम्भ 2
(i) 35	(a) 8 का गुणज
(ii) 15	(b) 7 का गुणज
(iii) 16	(c) 70 का गुणज
(iv) 20	(d) 30 का गुणनखण्ड
(v) 25	(e) 50 का गुणनखण्ड
	(f) 20 का गुणनखण्ड

उत्तर-

(i)  $\rightarrow$  (b),

(ii)  $\rightarrow$  (d),

(iii)  $\rightarrow$  (a),

(iv)  $\rightarrow$  (f),

(v)  $\rightarrow$  (e),

प्रश्न 4. 9 के सभी गुणज ज्ञात कीजिए जो 100 से कम हों।

उत्तर-  $\because 9 \times 1 = 9$

$9 \times 2 = 18$

$$9 \times 3 = 27$$

$$9 \times 4 = 36$$

$$9 \times 5 = 45$$

$$9 \times 6 = 54$$

$$9 \times 7 = 63$$

$$9 \times 8 = 72$$

$$9 \times 9 = 81$$

$$9 \times 10 = 90$$

$$9 \times 11 = 99$$

∴ 9 के 100 से कम गुणज = 9, 18, 27, 36, 45, 54, 63, 72, 81, 90 और 99

### प्रश्नावली 3.2 (पृष्ठ संख्या 56-57)

प्रश्न 1. बताइए कि किन्हीं दो संख्याओं का योग सम होता है या विषम होता है, यदि वे दोनों

- विषम संख्याएँ हों
- सम संख्याएँ हों।

उत्तर-

- दो विषम संख्याओं का योग सम होता है।
- दो सम संख्याओं का योग सम होता है।

प्रश्न 2. बताइए कि निम्नलिखित में कौन-सा कथन सत्य है और कौन-सा असत्य :

- तीन विषम संख्याओं का योग सम होता है।
- दो विषम संख्याओं और एक सम संख्या का योग सम होता है।
- तीन विषम संख्याओं का गुणनफल विषम होता है।
- यदि किसी सम संख्या को 2 से भाग दिया जाए तो भागफल सदैव विषम होता है।

- e. सभी अभाज्य संख्याएँ विषम हैं।
- f. अभाज्य संख्याओं के कोई गुणनखण्ड नहीं होते।
- g. दो अभाज्य संख्याओं का योग सदैव सम होता है।
- h. केवल 2 ही एक सम अभाज्य संख्या है।
- i. सभी सम संख्याएँ भाज्य संख्याएँ हैं।
- j. दो सम संख्याओं का गुणनफल सदैव सम होता है।

उत्तर-

- a. असत्य
- b. सत्य
- c. सत्य
- d. असत्य
- e. असत्य
- f. असत्य
- g. असत्य
- h. सत्य
- i. असत्य
- j. सत्य।

प्रश्न 3. संख्या 13 और 31 अभाज्य संख्याएँ हैं। इन दोनों संख्याओं में दो अंक 1 और 3 हैं। 100 तक की संख्याओं में ऐसे अन्य सभी युग्म ज्ञात कीजिए।

उत्तर- 100 तक की अभाज्य संख्याएँ हैं : 2 3 5 7 11 13 17 19 23 29 31 37 41 43 47 53  
59 61 67 71 73 79 83 89 97

इनमें से समान इकाई वाली अभाज्य संख्याओं के युग्म हैं-17 और 71; 37 और 73; तथा 79 और 97

प्रश्न 4. 20 से छोटी सभी अभाज्य और भाज्य संख्याएँ अलग-अलग लिखिए।

उत्तर- 20 से छोटी अभाज्य संख्याएँ हैं-2, 3, 5, 7, 11, 13, 17 और 19

20 से छोटी भाज्य संख्याएँ हैं-4, 6, 8, 9, 10, 12, 14, 15, 16 और 18

प्रश्न 5. 1 और 10 के बीच में सबसे बड़ी अभाज्य संख्या लिखिए।

उत्तर- 1 और 10 के बीच में सबसे बड़ी अभाज्य संख्या = 7

प्रश्न 6. निम्नलिखित को दो विषम अभाज्य संख्याओं के योग के रूप में व्यक्त कीजिए :

a. 44

b. 36

c. 24

d. 18

उत्तर-

a.  $44 = 13 + 31$

या  $44 = 3 + 41$  या  $44 = 37 + 7$

b.  $36 = 5 + 31$

$36 = 23 + 13$  या  $36 = 17 + 19$

c.  $24 = 11 + 13$  या

$24 = 5 + 19$  या  $24 = 7 + 17$

d.  $18 = 7 + 11$  या  $18 = 5 + 13$

प्रश्न 7. अभाज्य संख्याओं के ऐसे तीन युग्म लिखिए जिनका अंतर 2 हो।

उत्तर- अभाज्य संख्याओं के तीन युग्म जिनका अंतर 2 हैं-

i. 3 और 5,

ii. 5 और 7

iii. 11 और 13

प्रश्न 8. निम्नलिखित में से कौन-सी संख्याएँ अभाज्य संख्याएँ हैं?

- a. 23
- b. 51
- c. 37
- d. 26

उत्तर-

a.  $\because 23 = 1 \times 23$

$\therefore 23$  अभाज्य संख्या है।

b.  $\because 51 = 1 \times 51 = 3 \times 17$

$\therefore 51$  के गुणनखण्ड = 1, 3, 17 और 51

(दो से अधिक गुणनखण्ड)

$\therefore 51$  अभाज्य संख्या नहीं है।

c.  $\because 37 = 1 \times 37$

$\therefore 37$  अभाज्य संख्या है।

d.  $\because 26 = 1 \times 26 = 2 \times 13$

$\therefore 26$  के गुणनखण्ड = 1, 2, 13 और 26

(दो से अधिक गुणनखण्ड)

$\therefore 26$  अभाज्य संख्या नहीं है।

प्रश्न 9. 100 से छोटी सात क्रमागत भाज्य संख्याएँ लिखिए जिनके बीच में कोई अभाज्य संख्या नहीं है।

उत्तर- 100 से छोटी सात क्रमागत भाज्य संख्याएँ जिनके बीच में कोई अभाज्य संख्या नहीं है

90, 91, 92, 93, 94, 95 और 96

प्रश्न 10. निम्नलिखित संख्याओं में से प्रत्येक को तीन अभाज्य संख्याओं के योग के रूप में व्यक्त कीजिए:

- a. 21
- b. 31
- c. 53
- d. 61

उत्तर-

- a.  $21 = 3 + 5 + 13$
- b.  $31 = 3 + 5 + 23$
- c.  $53 = 13 + 17 + 23$
- d.  $61 = 7 + 13 + 41$

प्रश्न 11. 20 से छोटी अभाज्य संख्याओं के ऐसे पाँच युग्म लिखिए जिनका योग 5 से विभाज्य (divisible) हो। (संकेत :  $3 + 7 = 10$ )

उत्तर- 20 से छोटी अभाज्य संख्याएँ हैं- 2, 3, 5, 7, 11, 13, 17 और 19.

$2 + 3 = 5$ , 5, 5 से विभाज्य है।

$3 + 7 = 10$ , 10, 5 से विभाज्य है।

$2 + 13 = 15$ , 15, 5 से विभाज्य है।

$7 + 13 = 20$ , 20, 5 से विभाज्य है।

$3 + 17 = 20$ , 20, 5 से विभाज्य है।

अतः अभीष्ट अभाज्य संख्याओं के युग्म : 2 और 3; 3 और 7; 2 और 13; 7 और 13; तथा 3 और 17

प्रश्न 12. निम्न में रिक्त स्थानों को भरिए:

- a. वह संख्या जिसके केवल दो गुणखण्ड हों ..... कहलाती है।



- b. वह संख्या जिसके दो से अधिक गुणखण्ड हों एक ..... कहलाती है।  
 c. 1 न तो ..... है और न ही ..... ।  
 d. सबसे छोटी अभाज्य संख्या ..... है।  
 e. सबसे छोटी भाज्य संख्या ..... है।  
 f. सबसे छोटी सम संख्या .... है।

उत्तर-

- a. अभाज्य संख्या,  
 b. भाज्य संख्या,  
 c. अभाज्य संख्या, भाज्य संख्या  
 d. 2,  
 e. 4  
 f. 2.

### प्रश्नावली 3.3 (पृष्ठ संख्या 61-62)

प्रश्न 1. विभाज्यता की जाँच के नियमों का प्रयोग करते हुए, पता कीजिए कि निम्नलिखित संख्याओं में से कौन-सी संख्याएँ 2 से विभाज्य हैं; 3 से विभाज्य हैं; 4 से विभाज्य हैं; 5 से विभाज्य हैं; 6 से विभाज्य हैं; 8 से विभाज्य हैं; 9 से विभाज्य हैं; 10 से विभाज्य हैं या 11 से विभाज्य हैं (हाँ या नहीं कहिए):

उत्तर-

संख्या	2 से	3 से	4 से	5 से	6 से	8 से	9 से	10 से	11 से
128	हाँ	नहीं	हाँ	नहीं	नहीं	हाँ	नहीं	नहीं	नहीं
990	हाँ	हाँ	नहीं	हाँ	हाँ	नहीं	हाँ	हाँ	हाँ
1586	हाँ	नहीं	नहीं	नहीं	नहीं	नहीं	नहीं	नहीं	नहीं
275	नहीं	नहीं	नहीं	हाँ	नहीं	नहीं	नहीं	नहीं	हाँ
6686	हाँ	नहीं	नहीं	नहीं	नहीं	नहीं	नहीं	नहीं	नहीं
639210	हाँ	हाँ	नहीं	हाँ	हाँ	नहीं	नहीं	हाँ	हाँ
429714	हाँ	हाँ	नहीं	नहीं	हाँ	नहीं	हाँ	नहीं	नहीं
2856	हाँ	हाँ	हाँ	नहीं	हाँ	हाँ	नहीं	नहीं	नहीं
3030	हाँ	हाँ	नहीं	हाँ	हाँ	नहीं	नहीं	हाँ	नहीं
406839	नहीं	हाँ	नहीं	नहीं	नहीं	नहीं	नहीं	नहीं	नहीं

प्रश्न 2. विभाज्यता की जाँच के नियमों द्वारा ज्ञात कीजिए कि निम्नलिखित में से कौन-सी संख्याएँ 4 से विभाज्य हैं और कौन-सी 8 से विभाज्य हैं:

- a. 572
- b. 726352
- c. 5500
- d. 6000
- e. 12159
- f. 14560
- g. 21084
- h. 31795072
- i. 1700
- j. 2150

उत्तर- 4 से विभाज्यता-यदि किसी संख्या के दहाई और इकाई के अंकों से बनी संख्या 4 से विभाज्य है, तो वह संख्या 4 से विभाज्य होगी।

- a. 572 में 72, 4 से विभाज्य है। अतः 572, 4 से विभाज्य है।
- b. 26352 में 52, 4 से विभाज्य है। अतः 726352, 4 से विभाज्य है।
- c. 5500 में 00, 4 से विभाज्य है। अतः 5500, 4 से विभाज्य है।
- d. 6000 में 00, 4 से विभाज्य है। अतः 6000, 4 से विभाज्य है।
- e. 12159 में 59, 4 से विभाज्य नहीं है। अतः 12159, 4 से विभाज्य नहीं है।
- f. 14560 में 60, 4 से विभाज्य है। अतः 14560, 4 से विभाज्य है।
- g. 21084 में 84, 4 से विभाज्य है। अतः 21084, 4 से विभाज्य है।
- h. 31795072 में 72, 4 से विभाज्य है। अतः 31795072, 4 से विभाज्य है।
- i. 1700 में 00, 4 से विभाज्य है। अतः 1700, 4 से विभाज्य है।
- j. 2150 में 50, 4 से विभाज्य है। अतः 2150, 4 से विभाज्य है।

8 से विभाज्यता – यदि किसी संख्या के सैकड़े, दहाई व इकाई के अंकों से बनी संख्या 8 से विभाज्य है तो वह संख्या 8 से विभाज्य होगी।

- a. 572 में 572, 8 से विभाज्य नहीं है। अतः 572, 8 से विभाज्य नहीं है।
- b. 726352 में 352, 8 से विभाज्य है। अतः 726352, 8 से विभाज्य है।
- c. 5500 में 500, 8 से विभाज्य नहीं है। अतः 5500, 8 से विभाज्य नहीं है।
- d. 6000 में 000, 8 से विभाज्य है। अतः 6000, 8 से विभाज्य है।
- e. 12159 में 159, 8 से विभाज्य नहीं है। अतः 12159, 8 से विभाज्य नहीं है।
- f. 14560 में 560, 8 से विभाज्य है। अतः 14560, 8 से विभाज्य है।
- g. 21084 में 084, 8 से विभाज्य नहीं है। अतः 21084, 8 से विभाज्य नहीं है।
- h. 31795072 में 072, 8 से विभाज्य है। अतः 31795072, 8 से विभाज्य है।
- i. 1700 में 700, 8 से विभाज्य नहीं है। अतः 1700, 8 से विभाज्य नहीं है।
- j. 2150 में 150, 8 से विभाज्य नहीं है। अतः 2150, 8 से विभाज्य नहीं है।

प्रश्न 3. विभाज्यता की जाँच के नियमों द्वारा जात कीजिए कि निम्नलिखित में से कौन-सी संख्याएँ 6 से विभाज्य हैं:

- a. 297144
- b. 1258
- c. 4335
- d. 61233
- e. 901352
- f. 438750
- g. 1790184
- h. 12583
- i. 639210
- j. 17852

उत्तर-

कोई भी संख्या 6 से विभाज्य होती है यदि वह 2 और 3 से विभाज्य हो।

- a. संख्या 297144 में इकाई का अंक 4 है इसलिए यह 2 से विभाज्य है।  
इसके अंकों का योग =  $2 + 9 + 7 + 1 + 4 + 4 + 4 = 27$  जो कि 3 से विभाज्य है।  
∴ 297144, 6 से विभाज्य है।
- b. संख्या 1258 में इकाई का अंक 8 है। इसलिए यह 2 से विभाज्य है।  
इसके अंकों का योग =  $1 + 2 + 5 + 8 = 16$  जो कि 3 से विभाज्य नहीं है।  
∴ 1258, 6 से विभाज्य नहीं है।
- c. संख्या 4335 में इकाई का अंक 5 है। इसलिए यह 2 से विभाज्य नहीं है।  
∴ 4335, 6 से भी विभाज्य नहीं है।
- d. संख्या 61233 में इकाई का अंक 3 है। इसलिए यह 2 से विभाज्य नहीं है।  
∴ 61233, 6 से भी विभाज्य नहीं है।
- e. संख्या 901352 में इकाई का अंक 2 है। इसलिए यह 2 से विभाज्य है।  
इसके अंकों का योग =  $9 + 0 + 1 + 3 + 5 + 2 = 20$  जो कि 3 से विभाज्य नहीं है।  
∴ 901352, 6 से विभाज्य नहीं है।
- f. संख्या 438750 में इकाई का अंक 0 है। इसलिए यह 2 से विभाज्य है।  
इसके अंकों का योग =  $4 + 3 + 8 + 7 + 5 + 0 = 27$  जो कि 3 से विभाज्य है।  
∴ 438750, 6 से विभाज्य है।
- g. संख्या 1790184 में इकाई का अंक 4 है। इसलिए यह 2 से विभाज्य है।  
इसके अंकों का योग =  $1 + 7 + 9 + 0 + 1 + 8 + 4 = 30$  जो कि 3 से विभाज्य है।  
∴ 1790184, 6 से विभाज्य है।
- h. संख्या 12583 में इकाई का अंक 3 है। इसलिए यह 2 से विभाज्य नहीं है।

∴ 12583, 6 से विभाज्य नहीं है।

i. संख्या 639210 में इकाई का अंक शून्य है। इसलिए यह 2 से विभाज्य है।

इसके अंकों का योग =  $6 + 3 + 9 + 2 + 1 + 0 = 21$ , जोकि 3 से विभाज्य है।

∴ 639210, 6 से विभाज्य है।

j. संख्या 17852 से इकाई का अंक 2 है। इसलिए यह 2 से विभाज्य है।

इसके अंकों का योग =  $1 + 7 + 8 + 5 + 2 = 23$  जो कि 3 से विभाज्य नहीं है।

∴ 17852, 6 से विभाज्य नहीं है।

प्रश्न 4. विभाज्यता की जाँच के नियमों द्वारा ज्ञात कीजिए कि निम्नलिखित में से कौन-सी संख्याएँ 11 से विभाज्य हैं :

a. 5445

b. 10824

c. 7138965

d. 70169308

e. 10000001

f. 901153

उत्तर- किसी संख्या के दायें से विषम स्थानों के अंकों का योग और सम स्थानों के अंकों का योग का अन्तर 0 हो या 11 से विभाज्य हो, तो वह संख्या 11 से विभाज्य होगी।

a. संख्या 5445

दायें से, विषम स्थानों के अंकों का योग =  $5 + 4 = 9$

सम स्थानों के अंकों का योग =  $4 + 5 = 9$

∴ अंकों के योग का अन्तर =  $9 - 9 = 0$

∴ 5445, 11 से विभाज्य है।

b. संख्या 10824

दायें से, विषम स्थानों के अंकों का योग

$$= 4 + 8 + 1 = 13$$

सम स्थानों के अंकों का योग =  $2 + 0 = 2$

$$\therefore \text{इन दोनों योगों का अन्तर} = 13 - 2 = 11$$

जो कि, 11 का गुणज है।

$\therefore$  10824, 11 से विभाज्य है।

c. संख्या 7138965

दायें से, विषम स्थानों के अंकों का योग

$$= 5 + 9 + 3 + 7 = 24$$

सम स्थानों के अंकों का योग =  $6 + 8 + 1 = 15$

$$\therefore \text{इन दोनों योगों का अन्तर} = 24 - 15 = 9$$

जो कि 11 का गुणज नहीं है।

$\therefore$  7138965, 11 से विभाज्य नहीं है।

d. संख्या 70169308 दायें से, विषम स्थानों के अंकों का योग

$$= 8 + 3 + 6 + 0 = 17$$

सम स्थानों के अंकों का योग =  $0 + 9 + 1 + 7 = 17$

$$\therefore \text{इन दोनों योगों का अन्तर} = 17 - 17 = 0$$

$\therefore$  70169308, 11 से विभाज्य है।

e. संख्या 10000001 दायें से विषम स्थानों के अंकों का योग

$$= 1 + 0 + 0 + 0 = 1$$

$$\text{सम स्थानों के अंकों का योग} = 0 + 0 + 0 + 1 = 1$$

$$\therefore \text{इन दोनों योगों का अन्तर} = 1 - 1 = 0$$

$\therefore 10000001$ , 11 से विभाज्य है।

f. संख्या 901153

दायें से, विषम स्थानों के अंकों का योग

$$= 3 + 1 + 0 = 4$$

$$\text{समस्थानों के अंकों का योग} = 5 + 1 + 9 = 15$$

$$\therefore \text{इन दोनों योगों का अन्तर} = 15 - 4 = 11$$

जो कि 11 का गुणज है।

$\therefore 901153$ , 11 से विभाज्य है।

प्रश्न 5. निम्नलिखित में रिक्त स्थानों में सबसे छोटा अंक तथा सबसे बड़ा अंक लिखिए, जिससे संख्या 3 से विभाज्य हो:

a. .... 6724

b. 4765 .....2

उत्तर- यदि किसी संख्या के अंकों का योग 3 से विभाज्य है तो वह संख्या 3 से विभाज्य होगी।

a. .... 6724 के अंकों का योग  $= 6 + 7 + 2 + 4 = 19$

यदि इसमें 2 जोड़ दें तो 21 प्राप्त होगा जो कि 3 से विभाज्य है।

यदि इसमें 8 जोड़ दें तो 27 प्राप्त होगा जो कि 3 से विभाज्य है।

$\therefore$  सबसे छोटा अंक 2 और सबसे बड़ा अंक 8 है।

b.  $4765\dots\dots 2$  के अंकों का योग =  $4 + 7 + 6 + 5 + 2 = 24$

जो कि 3 से विभाज्य है। इसलिए सबसे छोटा अंक 0 है।

यदि 24 में 9 जोड़ दें तो 33 आएगा जो कि 3 से विभाज्य है।

∴ सबसे छोटा अंक 0 और सबसे बड़ा अंक 9 है।

प्रश्न 6. निम्नलिखित में रिक्त स्थानों में ऐसा अंक लिखिए, ताकि संख्या 11 से विभाज्य हो :

a.  $92 - 389$

b.  $8 - 9484$

उत्तर-

a.  $92 - 389$  में, दायें से

विषम स्थानों के अंकों का योग =  $9 + 3 + 2 = 14$

सम स्थानों के अंकों का योग =  $8 +$  अभीष्ट अंक  $+ 9$

=  $17 +$  अभीष्ट अंक

इन दोनों योगों का अन्तर = अभीष्ट अंक  $+ 17 - 14$

= अभीष्ट अंक  $+ 3$

∴ यह संख्या 11 का गुणज होनी चाहिए

∴ अभीष्ट अंक  $+ 3 = 11$

अभीष्ट अंक =  $11 - 3 = 8$

b.  $8 - 9484$  में, दायें से

विषम स्थानों के अंकों का योग =  $4 + 4 +$  अभीष्ट अंक

=  $8 +$  अभीष्ट अंक

सम स्थानों के अंकों का योग =  $8 + 9 + 8 = 25$



इन दोनों योगों का अन्तर =  $25 - (8 + \text{अभीष्ट अंक})$

=  $17 - \text{अभीष्ट अंक}$

∴ यह संख्या 11 का गुणज होनी चाहिए।

∴  $17 - \text{अभीष्ट अंक} = 11$

अतः अभीष्ट अंक =  $17 - 11 = 6$

### प्रश्नावली 3.4 (पृष्ठ संख्या 63)

प्रश्न 1. निम्न के सार्व गुणनखण्ड ज्ञात कीजिए:

- a. 20 और 28
- b. 15 और 25
- c. 35 और 50
- d. 56 और 120

उत्तर-

a. 20 के सभी गुणनखण्ड

= 1, 2, 4, 5, 10, और 20 ...(1)

28 के सभी गुणनखण्ड = 1, 2, 4, 7, 14 और 28 ...(2)

∴ 20 और 28 के सार्व गुणनखण्ड = 1, 2 और 4

b. 15 के सभी गुणनखण्ड = 1, 3, 5 और 15 ...(1)

∴ 25 के सभी गुणनखण्ड = 1, 5 और 25 ...(2)

∴ 15 और 25 के सार्व गुणनखण्ड = 1 और 5

c. 35 के सभी गुणनखण्ड = 1, 5, 7 और 35 ...(1)

50 के सभी गुणनखण्ड = 1, 2, 5, 10, 25 और 50 ...(2)

$\therefore$  35 और 50 के सार्व गुणनखण्ड = 1 और 5

d. 56 सभी गुणनखण्ड = 1, 2, 4, 7, 8, 14, 28 और 56 ....(1)

120 के सभी गुणनखण्ड = 1, 2, 3, 4, 5, 6, 8, 10, 12, 15, 20, 24, 30, 40, 60 और 120  
...(2)

$\therefore$  56 और 120 के सार्व गुणनखण्ड = 1, 2, 4, और 8

प्रश्न 2. निम्न के सार्व गुणनखण्ड ज्ञात कीजिए:

a. 4, 8 और 12

b. 5, 15 और 25

उत्तर-

a. 4 के सभी गुणनखण्ड = 1, 2 और 4

8 के सभी गुणनखण्ड = 1, 2, 4 और 8

12 के सभी गुणनखण्ड = 1, 2, 3, 4, 6 और 12

$\therefore$  4, 8 और 12 के सार्व गुणनखण्ड = 1, 2 और 4

b. 5 के सभी गुणनखण्ड = 1 और 5

15 के सभी गुणनखण्ड = 1, 3, 5 और 15

25 के सभी गुणनखण्ड = 1, 5 और 25

$\therefore$  5, 15 और 25 के सार्व गुणनखण्ड = 1 और 5

प्रश्न 3. निम्न के प्रथम तीन सार्व गुणज ज्ञात कीजिए:

a. 6 और 8

b. 12 और 18

उत्तर-

a. 6 के गुणज = 6, 12, 18, [24], 30, 36, 42, [48], 54, 60, 66, [72], .....

8 के गुणज = 8, 16, [24], 32, 40, 48, 56, 64, [72],.....

∴ 6 और 8 के प्रथम तीन सार्व गुणज = 24, 48 और 72

b. 12 के गुणज = 12, 24, [36], 48, 60, [72], 84, 96, [108], 120,.....

18 के गुणज = 18, [36], 54, [72], 90, [108], 126,.....

∴ 12 और 18 के प्रथम तीन सार्व गुणज

= 36, 72 और 108

प्रश्न 4. 100 से छोटी ऐसी सभी संख्याएँ लिखिए जो 3 और 4 के सार्व गुणज हैं।

उत्तर- 3 के गुणज = 3, 6, 9, [12], 15, 18, 21, 24, 27, 30, 33, [36], 39, 42, 45, [48],  
51, 54, 57, [60], 63, 66, 69, [72], 75, 78, 81, [84], 87, 90, 93, [96], 99.....

4 के गुणज = 4, 8, [12], 16, 20, [24], 28, 32, [36], 40, 44, [48], 52, 56, [60], 64,  
68, [72], 76, 80, [84], 88, 92, [96] ,.....

∴ 3 और 4 के सार्व गुणज = 12, 24, 36, 48, 60, 72, 84, 96,.....

प्रश्न 5. निम्नलिखित में से कौन-सी संख्याएँ सहअभाज्य हैं ?

- 18 और 35
- 15 और 37
- 30 और 415
- 17 और 68
- 216 और 215
- 81 और 16

उत्तर-

a. ∴ 18 के गुणनखण्ड = 1, 2, 3, 6, 9 और 18

35 के गुणनखण्ड = 1, 5, 7, और 35

चूँकि इनका सार्व गुणनखण्ड 1 है।

∴ 18 और 35 का 1 के अतिरिक्त सार्व गुणनखण्ड नहीं है।

अतः 18 और 35 सह-अभाज्य संख्याएँ हैं।

b. ∴ 15 के गुणनखण्ड = 1, 3, 5 और 15

37 के गुणनखण्ड = 1 और 37

∴ इनका सार्व गुणनखण्ड 1 है।

∴ 15 और 37 का 1 के अतिरिक्त सार्व गुणनखण्ड नहीं है।

अतः 15 और 37 सह-अभाज्य संख्याएँ हैं।

c. ∴ 30 के गुणनखण्ड = 1, 2, 3, 5, 6, 10, 15 और 30

415 के गुणनखण्ड = 1, 5, 83 और 415

∴ इनके सार्व गुणनखण्ड 1 और 5 हैं।

अतः 30 और 415 सह-अभाज्य संख्याएँ नहीं हैं।

d. ∴ 17 के गुणनखण्ड = 1 और 17

68 के गुणनखण्ड = 1, 2, 4, 17, 34 और 68

∴ 17 और 68 के सार्व गुणनखण्ड = 1 और 17

अतः 17 और 68 सह-अभाज्य संख्याएँ नहीं हैं।

e. ∴ 216 के गुणनखण्ड = 1, 2, 3, 4, 6, 8, 9, 12, 18, 24, 27, 36, 54, 72, 108 और 216

215 के गुणनखण्ड = 1, 5, 43 और 215

∴ 216 और 215 के सार्व गुणनखण्ड = 1

अतः 216 और 215 सह-अभाज्य संख्याएँ हैं।

f. ∴ 81 के गुणनखण्ड = 1, 3, 9, 27 और 81

16 के गुणनखण्ड = 1, 2, 4, 8 और 16

∴ 81 और 16 के सार्व गुणनखण्ड = 1

अतः 81 और 16 सह-अभाज्य संख्याएँ हैं।

प्रश्न 6. एक संख्या 5 और 12 दोनों से विभाज्य है। किस अन्य संख्या से यह संख्या सदैव विभाजित होगी?

उत्तर- दी हुई संख्या 5 और 12 के गुणनफल से विभाजित होगी।

अभीष्ट संख्या =  $5 \times 12 = 60$

अतः संख्या 60 से सदैव विभाज्य होगी।

प्रश्न 7. एक संख्या 12 से विभाज्य है। और कौन-सी संख्याएँ हैं जिनसे यह संख्या विभाज्य होगी?

उत्तर- 12 के गुणनखण्ड = 1, 2, 3, 4, 6 और 12

∴ संख्या 12 से विभाज्य है। इसलिए यह 12 के गुणनखण्डों से भी विभाज्य होगी।

अतः संख्या 2, 3, 4 और 6 से भी विभाज्य होगी।

### प्रश्नावली 3.5 (पृष्ठ संख्या 66-67)

प्रश्न 1. निम्नलिखित में कौन-से कथन सत्य हैं?

- यदि कोई संख्या 3 से विभाज्य है, तो वह 9 से भी विभाज्य होती है।
- यदि कोई संख्या 9 से विभाज्य है, तो वह 3 से भी अवश्य विभाज्य होगी।
- एक संख्या 18 से भी विभाज्य होती है, यदि वह 3 और 6 दोनों से विभाज्य हो।
- यदि एक संख्या 9 और 10 दोनों से विभाज्य हो, तो वह 90 से भी विभाज्य होगी।
- यदि दो संख्याएँ सह-अभाज्य हों, तो इनमें से कम-से-कम एक अवश्य ही अभाज्य संख्या होगी।
- 4 से विभाज्य सभी संख्याएँ 8 से भी अवश्य विभाज्य होनी चाहिए।
- 8 से विभाज्य सभी संख्याएँ 4 से विभाज्य होनी चाहिए।

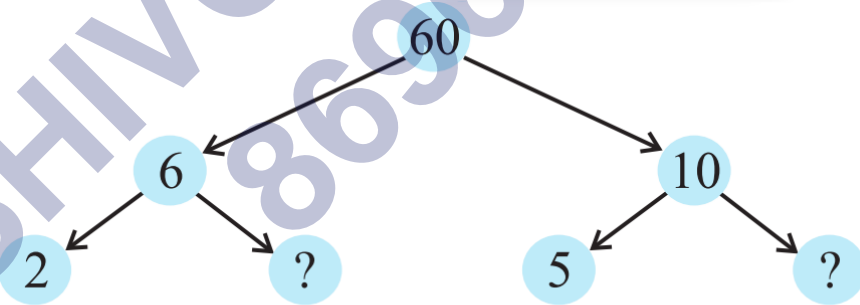
- h. यदि कोई संख्या दो संख्याओं को अलग-अलग पूरा-पूरा विभाजित करती है, तो वह उनके योग को भी पूरा-पूरा विभाजित करेगी।
- i. यदि कोई संख्या दो संख्याओं के योग को पूरी तरह विभाजित करती है, तो वह उन दोनों संख्याओं को अलग-अलग भी विभाजित करेगी।

उत्तर-

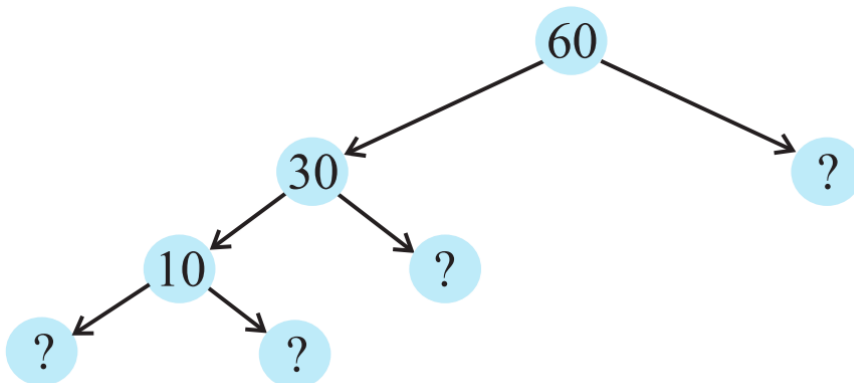
- a. असत्य,  
 b. सत्य,  
 c. असत्य,  
 d. सत्य,  
 e. असत्य,  
 f. असत्य,  
 g. सत्य,  
 h. सत्य,  
 i. असत्य

प्रश्न 2. यहाँ 60 के लिए दो भिन्न-भिन्न गुणखण्ड वृक्ष दिए हैं। इनमें अज्ञात संख्याएँ लिखिए।

(a)

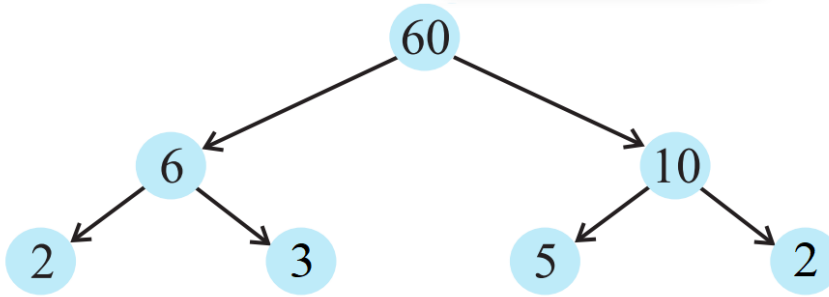


(b)

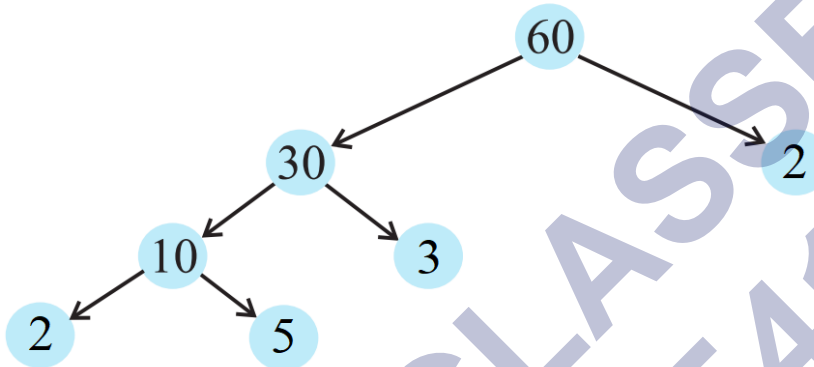


उत्तर-

(a)



(b)



प्रश्न 3. एक भाज्य संख्या के अभाज्य गुणनखण्डन में किन गुणनखण्डों को सम्मिलित नहीं किया जाता है?

उत्तर- 1 और स्वयं संख्या को भाज्य संख्या के अभाज्य गुणनखण्डन में सम्मिलित नहीं किया जाता है।

प्रश्न 4. चार अंकों की सबसे बड़ी संख्या लिखिए और उसे अभाज्य गुणनखण्डन के रूप में व्यक्त कीजिए।

उत्तर- चार अंकों की सबसे बड़ी संख्या = 9999

3	9999
3	3333
11	1111
101	101
	1

$$\therefore 9999 = 3 \times 3 \times 11 \times 101$$

प्रश्न 5. पाँच अंकों की सबसे छोटी संख्या लिखिए और उसे अभाज्य गुणनखण्डन के रूप में व्यक्त कीजिए।

उत्तर- पाँच अंकों की सबसे छोटी संख्या = 10000

2	10000
2	5000
2	2500
2	1250
5	625
5	125
5	25
5	5
	1

$$\therefore 10000 = 2 \times 2 \times 2 \times 2 \times 5 \times 5 \times 5 \times 5$$

प्रश्न 6. 1729 के सभी अभाज्य गुणनखण्ड ज्ञात कीजिए और उन्हें आरोही क्रम में व्यवस्थित कीजिए। अब दो क्रमागत अभाज्य गुणनखण्डों में यदि कोई सम्बन्ध है तो लिखिए।

उत्तर-

7	1729
13	247
19	19
	1

$$\therefore 1729 = 7 \times 13 \times 19$$

स्पष्ट है कि दो क्रमागत गुणनखण्डों में 6 का अन्तर है।

प्रश्न 7. तीन क्रमागत संख्याओं का गुणनफल सदैव 6 से विभाज्य होता है। इस कथन को कुछ उदाहरणों की सहायता से स्पष्ट कीजिए।

उत्तर- तीन क्रमागत संख्याओं के गुणनफल

i.  $11 \times 12 \times 13 = 1716$

गुणनफल के अंकों का योग =  $1 + 7 + 1 + 6 = 15$

ii.  $15 \times 16 \times 17 = 4080$

गुणनफल के अंकों का योग =  $4 + 0 + 8 + 0 = 12$



iii.  $25 \times 26 \times 27 = 17550$

गुणनफल के अंकों का योग =  $1 + 7 + 5 + 5 + 0 = 18$

a. प्रत्येक गुणनफल में इकाई का अंक 6, 4 और 0 है अतः गुणनफल 2 से विभाज्य है।

b. प्रत्येक गुणनफल के अंकों का योग 3 से विभाज्य है

$\therefore$  2 और 3 सह-अभाज्य संख्याएँ हैं इसलिए  $2 \times 3 = 6$

प्रत्येक गुणनफल को विभाजित करेगा।

$\therefore$  अतः तीन क्रमागत संख्याओं का गुणनफल सदैव 6 से विभाज्य होता है।

प्रश्न 8. दो क्रमागत विषम संख्याओं का योग 4 से विभाज्य होता है। कुछ उदाहरण लेकर इस कथन का सत्यापन कीजिए।

उत्तर- माना कि विषम संख्याओं का योग निम्न है

i.  $211 + 213 = 424$

ii.  $405 + 407 = 812$

iii.  $541 + 543 = 1084$

iv.  $101 + 103 = 204$

योगों के दायें से इकाई और दहाई के दो अंक क्रमशः 24, 12, 48 और 04 हैं जो कि 4 से विभाज्य हैं।

अतः दो क्रमागत विषम संख्याओं का योग 4 से विभाज्य होता है।

प्रश्न 9. निम्न में से किन व्यंजकों में अभाज्य गुणनखण्डन किए गए हैं :

a.  $24 = 2 \times 3 \times 4$

b.  $56 = 1 \times 7 \times 2 \times 2 \times 2$

c.  $70 = 2 \times 5 \times 7$

d.  $54 = 2 \times 3 \times 9$

उत्तर-

(a) और (d) में क्रमशः 4 और 9 के अभाज्य गुणनखण्डन नहीं हैं।

∴ (b) और (c) व्यंजकों में अभाज्य गुणनखण्डन किये गये हैं।

प्रश्न 10. बिना भाग किए ज्ञात कीजिए कि क्या 25110 संख्या 45 से विभाज्य है।

[संकेत : 5 और 9 सह-अभाज्य संख्याएँ हैं। दी हुई संख्या की 5 और 9 से विभाज्यता की जाँच कीजिए।

उत्तर- ∴ संख्या 25110 में इकाई के स्थान पर 0 है। अतः संख्या 25110, 5 से विभाज्य है।

पुनः संख्या के अंकों का योग =  $2 + 5 + 1 + 1 + 0 = 9$ , जो कि 9 से विभाज्य है।

इसलिए संख्या 25110, 9 से विभाज्य है।

अतः संख्या 25110, 45 से विभाज्य है।

प्रश्न 11. संख्या 18, 2 और 3 से विभाज्य है। यह  $2 \times 3 = 6$  से भी विभाज्य है। इसी प्रकार एक संख्या 4 और 6 दोनों से विभाज्य है। क्या हम कह सकते हैं कि वह संख्या  $4 \times 6 = 24$  से भी विभाज्य होगी। यदि नहीं, तो अपने उत्तर की पुष्टि के लिए एक उदाहरण दीजिए।

उत्तर- यह आवश्यक नहीं है कि जो संख्या 4 और 6 से विभाज्य होगी वह उनके गुणनफल  $4 \times 6 = 24$  से भी विभाज्य होगी।

क्योंकि 4 और 6 सह-अभाज्य संख्याएँ नहीं हैं।

संख्या 36, 4 और 6 दोनों से विभाज्य है, परन्तु संख्या 36 संख्या 24 से विभाज्य नहीं है।

प्रश्न 12. मैं चार भिन्न-भिन्न अभाज्य गुणनखण्डों वाली सबसे छोटी संख्या हूँ। क्या आप मुझे ज्ञात कर सकते

उत्तर- चार भिन्न-भिन्न अभाज्य संख्याएँ 2, 3, 5 और 7 हैं।

∴ अभीष्ट संख्या =  $2 \times 3 \times 5 \times 7 = 210$

### प्रश्नावली 3.6 (पृष्ठ संख्या 68)

प्रश्न 1. निम्नलिखित संख्याओं के म. स. ज्ञात कीजिए :

- a. 18, 48  
b. 30, 42  
c. 18, 60  
d. 27, 63  
e. 36, 84  
f. 34, 102  
g. 70, 105, 175  
h. 91, 112, 49  
i. 18, 54, 81  
j. 12, 45, 75

उत्तर-

a.  $\because 18 = 2 \times 3 \times 3$

$$48 = 2 \times 2 \times 2 \times 2 \times 3$$

$$\therefore \text{म. स.} = 2 \times 3 = 6$$

b.  $\because 30 = 2 \times 3 \times 5$

$$42 = 2 \times 3 \times 7$$

$$\therefore \text{म. स.} = 2 \times 3 = 6$$

c.  $\because 18 = 2 \times 3 \times 3$

$$60 = 2 \times 2 \times 3 \times 5$$

$$\therefore \text{म. स.} = 2 \times 3 = 6$$

d.  $\because 27 = 3 \times 3 \times 3$

$$63 = 3 \times 3 \times 7$$

$$\therefore \text{म. स.} = 3 \times 3 = 9$$

e.  $\because 36 = 2 \times 2 \times 3 \times 3$

$$84 = 2 \times 2 \times 3 \times 7$$

$$\therefore \text{म. स.} = 2 \times 2 \times 3 = 12$$

f.  $\because 34 = 2 \times 17$

$$102 = 2 \times 3 \times 17$$

$$\therefore \text{म. स.} = 2 \times 17 = 34$$

g.  $\because 70 = 2 \times 5 \times 7$

$$105 = 3 \times 5 \times 7$$

$$175 = 5 \times 5 \times 7$$

$$\therefore \text{म. स.} = 5 \times 7 = 35$$

h.  $\because 91 = 7 \times 13$

$$112 = 2 \times 2 \times 2 \times 2 \times 7$$

$$49 = 7 \times 7$$

$$\therefore \text{म. स.} = 7$$

i.  $\because 18 = 2 \times 3 \times 3$

$$54 = 2 \times 3 \times 3 \times 3$$

$$81 = 3 \times 3 \times 3 \times 3$$

$$\therefore \text{म. स.} = 3 \times 3 = 9$$

$$\because 12 = 2 \times 2 \times 3$$

$$45 = 3 \times 3 \times 5$$

$$75 = 3 \times 5 \times 5$$

$$\therefore \text{म. स.} = 3$$

प्रश्न 2. निम्न का म. स. क्या है?

- दो क्रमागत संख्याएँ
- दो क्रमागत सम संख्याएँ
- दो क्रमागत विषम संख्याएँ।

उत्तर-

- 1,
- 2,
- 1

प्रश्न 3. अभाज्य गुणनखण्डन द्वारा दो सह-अभाज्य संख्याओं 4 और 15 का म. स. इस प्रकार ज्ञात किया गया:

$$4 = 2 \times 2 \text{ और } 15 = 3 \times 5$$

चूँकि इन गुणनखण्डों में कोई अभाज्य सार्व गुणनखण्ड नहीं है, इसलिए 4 और 15 का म. स. शून्य है। क्या यह उत्तर सही है ? यदि नहीं तो सही म. स. क्या है ?

उत्तर- ∴ शून्य किसी भी संख्या का गुणनखण्ड नहीं हो सकता है।

1 प्रत्येक संख्या का गुणनखण्ड है। अतः 1 सार्व गुणनखण्ड है।

अतः शून्य उत्तर सही नहीं है। सही म. स. 1 है।

### प्रश्नावली 3.7 (पृष्ठ संख्या 72)

प्रश्न 1. रेणु 75 किग्रा और 69 किग्रा भारों वाली दो खाद की बोरियाँ खरीदती है। भार के उस बट्टे का अधिकतम मान ज्ञात कीजिए जो दोनों बोरियों के भारों को पूरा-पूरा माप ले।

उत्तर- दोनों बोरियों के भारों को पूरा-पूरा मापने के लिए अधिकतम भार म. स. होगा।

$$\therefore 75 = 3 \times 5 \times 5$$

$$69 = 3 \times 23$$

∴ सार्व गुणनखण्ड = 3, अतः म. स. = 3

अतः अधिकतम भार = 3 किग्रा

प्रश्न 2. तीन लड़के एक ही स्थान से एक साथ कदम उठाकर चलना प्रारम्भ करते हैं। उनके कदमों की माप क्रमशः 63 सेमी, 70 सेमी और 77 सेमी है। इनमें से प्रत्येक कितनी न्यूनतम दूरी तय करे कि वह दूरी पूरे-पूरे कदमों में तय हो जाए?

उत्तर- प्रत्येक द्वारा तय की गई दूरी उनके कदमों का ल. स. होगी।

अतः

2	63, 70, 77
3	63, 35, 77
3	21, 35, 77
5	7, 35, 77
7	7, 7, 77
11	1, 1, 11
	1, 1, 1

$$\therefore \text{ल. स.} = 2 \times 3 \times 3 \times 5 \times 7 \times 11 = 6930$$

∴ अभीष्ट न्यूनतम दूरी = 6930 सेमी

प्रश्न 3. किसी कमरे की लम्बाई, चौड़ाई और ऊँचाई क्रमशः 825 सेमी, 675 सेमी और 450 सेमी हैं। ऐसा सबसे लम्बा फीता (tape) ज्ञात कीजिए जो कमरे की तीनों विमाओं (dimensions) को पूरा-पूरा माप ले।

उत्तर- फीते की अधिकतम लम्बाई 825, 675 और 450 का म. स. होगी।

$$\therefore 825 = 3 \times 5 \times 5 \times 11$$

$$675 = 3 \times 3 \times 3 \times 5 \times 5$$

$$450 = 2 \times 3 \times 3 \times 5 \times 5$$

$$\begin{array}{r}
 3 \overline{) 825} \\
 \underline{5 \ 275} \\
 5 \ \underline{55} \\
 11
 \end{array}
 \qquad
 \begin{array}{r}
 3 \overline{) 675} \\
 \underline{3 \ 225} \\
 3 \ \underline{75} \\
 5 \ \underline{25} \\
 5 \ \underline{5} \\
 1
 \end{array}
 \qquad
 \begin{array}{r}
 2 \overline{) 450} \\
 \underline{3 \ 225} \\
 3 \ \underline{75} \\
 5 \ \underline{25} \\
 5 \ \underline{5} \\
 1
 \end{array}$$

$$\therefore \text{म. स.} = 3 \times 5 \times 5 = 75$$

अतः फीते की अधिकतम लम्बाई = 75 सेमी

प्रश्न 4. 6, 8 और 12 से विभाज्य तीन अंकों की सबसे छोटी संख्या ज्ञात कीजिए।

उत्तर- तीन अंकों की सबसे छोटी संख्या = 100

तीन अंकों की सबसे छोटी संख्या जो 6, 8 और 12 से पूर्णतः विभाजित हो उनका ल. स. है।

$$\begin{array}{r}
 2 \overline{) 6, 8, 12} \\
 2 \ \underline{3, 4, 6} \\
 2 \ \underline{3, 2, 3} \\
 3 \ \underline{3, 1, 3} \\
 1, 1, 1
 \end{array}$$

$$\therefore \text{ल. स.} = 2 \times 2 \times 2 \times 3 = 24$$

24 के सभी गुणज 6, 8 और 12 से विभाज्य होंगे। लेकिन हमें 3 अंकों का 24 का सबसे छोटा गुणज चाहिए।

$$\begin{array}{r}
 24 \overline{) 100} \ (4) \\
 \underline{-96} \\
 4
 \end{array}$$

अब 100 से बड़ी और 24 से पूर्णतया विभाज्य संख्या =  $(100 - 4) + 24 = 120$

अतः अभीष्ट संख्या = 120

प्रश्न 5. 8, 10 और 12 से विभाज्य तीन अंकों की सबसे बड़ी संख्या ज्ञात कीजिए।

उत्तर- 8, 10 और 12 का ल. स. :

2	8, 10, 12
2	4, 5, 6
2	2, 5, 3
3	1, 5, 3
5	1, 5, 1
	1, 1, 1

∴ ल. स. =  $2 \times 2 \times 2 \times 3 \times 5 = 120$

चूँकि 120 के सभी गुणज 8, 10 और 12 से भी विभाज्य होंगे।

अब 3 अंकों की सबसे बड़ी संख्या = 999

$$\begin{array}{r} 120) 999 \text{ (8)} \\ - 960 \\ \hline 39 \end{array}$$

∴  $999 - 39 = 960$  जो कि 120 का गुणज है।

अतः अभीष्ट संख्या = 960

प्रश्न 6. तीन विभिन्न चौराहों की ट्रैफिक लाइट (traffic lights) क्रमशः प्रत्येक 48 सेकण्ड, 72 सेकण्ड और 108 सेकण्ड बाद बदलती है। यदि वे एक साथ प्रातः 7 बजे बदलें, तो वे पुनः एक साथ कब बदलेंगी?

उत्तर- अभीष्ट समय 48, 72 और 108 का ल. स. होगा।

2	48, 72, 108
2	24, 36, 54
2	12, 18, 27
2	6, 9, 27
3	3, 9, 27
3	1, 3, 9
3	1, 1, 3
	1, 1, 1

ल. स. =  $2 \times 2 \times 2 \times 2 \times 3 \times 3 \times 3 = 432$  सेकण्ड

अतः अभीष्ट न्यूनतम समय जब लाइटें दोबारा अपने आप बदलेंगी = 432 सेकण्ड = 7 मिनट 12 सेकण्ड



इसलिए वे दोबारा 7 बजकर 7 मिनट और 12 सेकण्ड पर बदलेंगी।

प्रश्न 7. तीन टैंकरों में क्रमशः 403 लीटर, 434 लीटर और 465 लीटर डीजल है। उस बर्तन की अधिकतम धारिता ज्ञात कीजिए जो इन तीनों टैंकरों के डीजल को पूरा-पूरा माप देगा।

उत्तर-  $403 = 13 \times 31$

$434 = 2 \times 7 \times 31$

$645 = 3 \times 5 \times 31$

$\therefore$  म. स. = सार्व गुणनखण्ड = 31

अतः बर्तन की अधिकतम अभीष्ट धारिता = 31 लीटर

प्रश्न 8. वह सबसे छोटी संख्या ज्ञात कीजिए जिसे 6, 15 और 18 से भाग देने पर प्रत्येक दशा में 5 शेष रहे।

उत्तर-

2	6, 15, 18
3	3, 15, 9
3	1, 5, 3
5	1, 5, 1
	1, 1, 5

$\therefore$  ल. स. =  $2 \times 3 \times 3 \times 5 = 90$

अतः अभीष्ट संख्या =  $90 + 5 = 95$

प्रश्न 9. चार अंकों की सबसे छोटी संख्या ज्ञात कीजिए जो 18, 24 और 32 से विभाज्य है।

उत्तर-

2	18, 24, 32
2	9, 12, 16
2	9, 6, 8
2	9, 3, 4
2	9, 3, 2
3	9, 3, 1
3	3, 1, 1
	1, 1, 1

$$\therefore \text{ल. स.} = 2 \times 2 \times 2 \times 2 \times 2 \times 3 \times 3 = 288$$

चार अंकों की सबसे छोटी संख्या = 1000

$\therefore$  4 अंकों की सबसे छोटी संख्या जो 288 से विभाज्य हो

$$= 1000 - 136 + 288$$

$$= 1152$$

$$\begin{array}{r} 288 \overline{) 1000} \quad (3) \\ \underline{- 864} \\ 136 \end{array}$$

अतः अभीष्ट संख्या = 1152

प्रश्न 10. निम्नलिखित संख्याओं का ल. स. ज्ञात कीजिए जिनमें एक संख्या सदैव 3 का गुणज है :

- a. 9 और 4
- b. 12 और 5
- c. 6 और 5
- d. 15 और 4

प्राप्त ल. स. में एक सामान्य गुण का अवलोकन कीजिए। क्या ल. स. प्रत्येक स्थिति में दोनों संख्याओं का गुणनफल है? क्या हम यह निष्कर्ष निकाल सकते हैं कि दो संख्याओं का ल. स. सदैव 3 का एक गुणज है।

उत्तर-

a.

$$\begin{array}{r|l} 2 & 9, 4 \\ \hline 2 & 9, 2 \\ 3 & 9, 1 \\ 3 & 3, 1 \\ \hline & 1, 1 \end{array}$$

$$\therefore \text{ल. स.} = 2 \times 2 \times 3 \times 3 = 36$$

$$9 \text{ और } 4 \text{ का गुणनफल} = 9 \times 4 = 36$$

∴ 4 और 9 का ल. स. = 9 और 4 का गुणनफल

b.

$$\begin{array}{r|l} 2 & 12, 5 \\ \hline 2 & 6, 5 \\ \hline 3 & 3, 5 \\ \hline 5 & 1, 5 \\ \hline & 1, 1 \end{array}$$

∴ ल. स. =  $2 \times 2 \times 3 \times 5 = 60$

12 और 5 का गुणनफल =  $12 \times 5 = 60$

∴ 12 और 5 का ल. स. = 12 और 5 का गुणनफल

c.

$$\begin{array}{r|l} 2 & 6, 5 \\ \hline 3 & 3, 5 \\ \hline 5 & 1, 5 \\ \hline & 1, 1 \end{array}$$

∴ ल. स. =  $2 \times 3 \times 5 = 30$

6 और 5 का गुणनफल =  $6 \times 5 = 30$

∴ 6 और 5 का ल. स. = 6 और 5 का गुणनफल

d.

$$\begin{array}{r|l} 2 & 15, 4 \\ \hline 2 & 15, 2 \\ \hline 3 & 15, 1 \\ \hline 5 & 5, 1 \\ \hline & 1, 1 \end{array}$$

∴ ल. स. =  $2 \times 2 \times 3 \times 5 = 60$

15 और 4 का गुणनफल =  $15 \times 4 = 60$

∴ 15 और 4 का ल. स. = 15 और 4 का गुणनफल

हम पाते हैं कि

$$36 = 3 \times 12,$$

$$60 = 3 \times 20,$$

$$30 = 3 \times 10$$

यहाँ प्रत्येक स्थिति ल. स. 3 का गुणज है।

हाँ, प्रत्येक स्थिति में ल. स. = दो संख्याओं का गुणनफल

हम यह निष्कर्ष नहीं निकाल सकते कि दो संख्याओं का ल. स. सदैव 3 का गुणज होता है।

प्रश्न 11. निम्नलिखित संख्याओं का ल. स. ज्ञात कीजिए जिनमें एक संख्या दूसरी संख्या का एक गुणखण्ड

a. 5, 20

b. 6, 18

c. 12, 48

d. 9, 45

प्राप्त परिणामों में आप क्या देखते हैं?

उत्तर-

a.

$$\begin{array}{r|l} 2 & 5, 20 \\ \hline 2 & 5, 10 \\ \hline 5 & 5, 5 \\ \hline & 1, 1 \end{array}$$

∴ ल. स. =  $2 \times 2 \times 5 = 20$

b.

2	6, 18
3	3, 9
3	1, 3
	1, 1

$$\therefore \text{ल. स.} = 2 \times 3 \times 3 = 18$$

c.

2	12, 48
2	6, 24
2	3, 12
2	3, 6
3	3, 3
	1, 1

$$\therefore \text{ल. स.} = 2 \times 2 \times 2 \times 2 \times 3 = 48$$

d.

3	9, 45
3	3, 15
5	1, 5
	1, 1

$$\therefore \text{ल. स.} = 3 \times 3 \times 5 = 45$$

प्राप्त परिणामों से स्पष्ट है कि प्रत्येक स्थिति में दी हुई नंख्याओं का ल. स. उन दोनों में से बड़ी संख्या है।